

СЕРТИФІКАЦІЙНА РОБОТА З ІСТОРІЇ УКРАЇНИ

Час виконання – 150 хвилин

Робота складається з двох частин.

Частина 1 «Історія України ХХ – початку ХХІ ст.» містить 30 завдань різних форм. Відповіді на завдання частини 1 Ви маєте позначити та записати в *бланку А*.

Результат виконання цих завдань буде зараховано як результат державної підсумкової атестації.

Частина 2 «Історія України від найдавніших часів до кінця ХІХ ст.» містить 30 завдань різних форм. Відповіді на завдання частини 2 Ви маєте позначити та записати в *бланку А*.

Результат виконання завдань частин 1 і 2 буде використано під час прийому до закладів вищої освіти.

Інструкція щодо роботи в зошиті

1. Правила виконання зазначені перед завданнями кожної нової форми.
2. Відповідайте лише після того, як Ви уважно прочитали та зрозуміли завдання.
3. За необхідності використовуйте як чернетку вільні від тексту місця в зошиті.
4. Намагайтеся виконати всі завдання.

Інструкція щодо заповнення бланка відповідей А

1. У *бланк А* записуйте лише правильні, на Вашу думку, відповіді.
2. Відповіді вписуйте чітко, згідно з вимогами інструкції до кожної форми завдань.
3. Якщо Ви позначили відповідь на завдання 1–28 і 31–58 неправильно, можете виправити її, замалювавши попередню позначку та поставивши нову, як показано на зразку:



4. Якщо Ви записали відповідь на завдання 29, 30 і 59, 60 неправильно, можете виправити її у відповідному місці *бланка А*.
5. Ваш результат залежатиме від загальної кількості правильних відповідей, зазначених у *бланку А*.

Ознайомившись з інструкціями, перевірте якість друку зошита та кількість сторінок. Їх має бути 20.

Позначте номер Вашого зошита у відповідному місці *бланка А* так:

1	2	3	4	5	6	7	8	9	10	11	12	13	14	15
×														

Зичимо Вам успіху!

Частина 1
Історія України ХХ – початку ХХІ століття

Пам'ятайте!

Результат виконання завдань частини 1 буде зараховано
як результат державної підсумкової атестації

Завдання 1–23 мають по чотири варіанти відповіді, з яких лише один правильний. Виберіть правильний, на Вашу думку, варіант відповіді, позначте його в бланку А згідно з інструкцією. Не робіть інших позначок у бланку А, тому що комп'ютерна програма реєструватиме їх як помилки!

Будьте особливо уважні під час заповнення бланку А!

Не погіршуйте власноручно свого результату неправильною формою запису відповідей

1. Що стало поштовхом до появи документа, уривок з якого наведено:
«Бюро української парламентської групи надіслало телеграму: “Рідна українська просвіта найміцніша підвалина української автономії. Нехай же ширяться по всій Україні просвітні товариства, стаючи джерелом освіти й свідомості для рідного народу. Вітаємо київську “Просвіту”, вітаємо нове культурне життя України”...»?
 - А революційні події в Росії (1905–1907 рр.)
 - Б упровадження загального виборчого права для чоловіків в Австро-Угорщині (1907 р.)
 - В реалізація реформи П. Столипіна (1906–1911 рр.)
 - Г судовий процес у «справі Бейліса» (1913 р.)

2. Потребу здобуття політичної незалежності України вперше обґрунтував
 - А Андрей Шептицький у посланні «Як будувати рідну хату?».
 - Б Микола Міхновський у творі «Самостійна Україна».
 - В Дмитро Яворницький у праці «Вольності запорозьких козаків».
 - Г Юліан Бачинський у брошурі «Україна Irredenta».

3. Створення легіону Українських січових стрільців
 - А спричинено формуванням «Вільного козацтва».
 - Б було складовою процесу «українізації» частин російської армії.
 - В відбулося за ініціативи Головної української ради.
 - Г зумовлено проголошенням Західноукраїнської Народної Республіки.

4. Найбільшу підтримку населення Наддніпрянської України в 1917 р. мала
 - А Українська партія соціалістів-федералістів.
 - Б Українська партія соціалістів-революціонерів.
 - В Українська соціал-демократична робітничка партія.
 - Г Українська демократично-хліборобська партія.

5. Карта-карикатура, зображена на фото, ілюструє події


- А 1914 р.
- Б 1917 р.
- В 1919 р.
- Г 1921 р.



Прочитайте фрагмент історичного документа та виконайте завдання 6–8.

«Перехід Галицької Армії на сторону Денікіна поставив нашу Армію в надзвичайно тяжке стратегічне й матеріальне положення, бо, одночасно з передачею ворогові значної кількості військового майна, для його наступу була відкрита головна комунікаційна лінія... У зв'язку з цим Уряд... заявляє, що він тимчасово переходить на інші способи боротьби за нашу державність... Уряд буде керувати справами України та захищати її перед іншими державами так, як цього вимагатимуть інтереси нашої республіки...»


6. Хто з діячів, зображених на фото, очолював Українську державу за обставин, наведених в уривку документа?



А



Б



В



Г

7. У результаті «надзвичайно тяжкого стратегічного й матеріального положення» «Армія» була змушена здійснити

- А Перший «Зимовий похід».
- Б «Чортківську офензиву».
- В «Брусилівський прорив».
- Г «Листопадовий зрив».

8. Зазначені в уривку документа обставини спонукали «Уряд» до

- А підписання Брестського миру.
- Б укладення Варшавської угоди.
- В визнання умов Ризького договору.
- Г підтвердження умов прелімінарного миру з радянською Росією.

9. Розгляньте агітаційний плакат часів утвердження тоталітарного режиму в Україні (1929–1939 рр.) і виконайте завдання.



*Напис на плакаті:
«Правильною організацією
праці звільнимо колгоспників
для роботи в соціалістичній
промисловості.
Дамо мільйони робочих рук на
фронт індустріалізації».*

Плакат дає змогу визначити

- А причини індустріалізації.
 - Б характер індустріалізації.
 - В джерела індустріалізації.
 - Г етапи індустріалізації.
10. Пам'ятка, зображена на фото, є частиною міської архітектури
- А Харкова.
 - Б Одеси.
 - В Києва.
 - Г Львова.



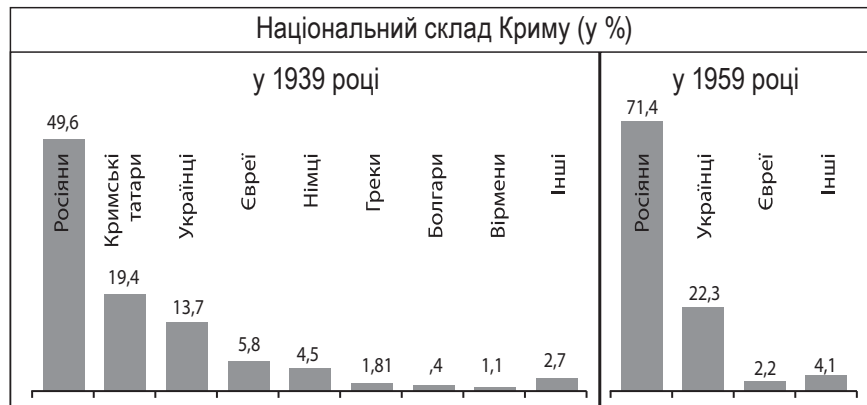
11. Саморозпуск уряду ЗУНР в 1923 р. став наслідком визнання країнами Антанти входження до складу Польщі
- А Закарпаття.
 - Б Східної Галичини.
 - В Північної Буковини.
 - Г Південної Бессарабії.
12. Реалізація Радянським Союзом умов «пакта Молотова–Ріббентропа» розпочалася
- А 1 вересня 1939 р.
 - Б 17 вересня 1939 р.
 - В 28 червня 1940 р.
 - Г 22 червня 1941 р.

13. Збройно-політична формація, створена Т. Боровцем (Бульбою), що діяла на Волині з червня 1941 р. до лютого 1944 р., називалася
- А «Українська головна визвольна рада».
 - Б «Сірожупанна дивізія».
 - В «Вільне козацтво».
 - Г «Поліська Січ».

14. Уривок з історичного джерела «Улітку 1946 р. потік сільського населення з центральних і південних областей у західні області України не зменшився. У червні органами транспортної міліції УРСР було знято тільки з товарних поїздів 62 400 осіб, а за дві останні декади липня – 97 633 особи...» доречно використовувати, характеризуючи
- А масштаби повоєнного голоду.
 - Б проведення операції «Вісла».
 - В придушення збройного опору УПА.
 - Г розгортання «радянської» на Західній Україні.

15. Відображені на діаграмах зміни національного складу населення Криму стали наслідком

- А депортації.
- Б десталінізації.
- В розкуркулення.
- Г трудової еміграції.



16. У добу «відлиги» в суспільному лексиконі вперше з'являється поняття

- А «розвинений соціалізм».
- Б «партійна номенклатура».
- В «політична реабілітація».
- Г «безрідний космополітизм».

17. Яку особливість економічного розвитку УРСР в 1970-ті – на початку 1980-х рр. підтверджено даними, наведеними в уривку документа:


«У республіці, на яку припадало 2,6 % території СРСР, було побудовано майже 40 % атомних енергоблоків, продукувалося близько 40 % усієї радянської сталі, 34 % вугілля, 51 % чавуну.

...частка промисловості, що працювала на споживчий ринок, становила 29 %, тоді як у розвинених країнах цей показник сягав 50–60 % і більше?»

- А деформованість структури економіки
- Б посилення економічної самостійності
- В зростання конкурентоспроможності продукції
- Г зниження матеріало- та енергомісткості виробництва

18. У царині якого мистецтва творили діячі, зображені на фото?

- А кіно
- Б театру
- В музики
- Г архітектури



19. Уривок з історичного джерела *«Соціалістичне самоврядування реалізується в умовах широкої гласності шляхом участі всього колективу та його громадських організацій у виробленні найважливіших рішень і контролі за їх виконанням, виборності керівників та єдиноначальності в управлінні підприємством...»* доречно використовувати, характеризуючи суспільне життя України доби

- А «відлиги».
- Б «застою».
- В «перебудови».
- Г «незалежності».

Прочитайте фрагмент історичного документа та виконайте завдання 20–22.

«Російська Федерація, Сполучене Королівство Великої Британії та Північної Ірландії і Сполучені Штати Америки підтверджують Україні їх зобов'язання згідно з принципами Заключного акта Наради з безпеки та співробітництва в Європі (НБСЕ) поважати незалежність і суверенітет та існуючі кордони України..., [а також] підтверджують зобов'язання утримуватися від загрози силою чи її використання проти територіальної цілісності чи політичної незалежності України, що ніяка їхня зброя ніколи не буде використовуватися проти України, крім цілей самооборони або будь-яким іншим чином згідно зі Статутом Організації Об'єднаних Націй...»

20. Що зумовило підписання цитованого документа?

- А вступ України до Ради Європи
- Б відмова України від ядерної зброї
- В входження України до Світової організації торгівлі
- Г проведення Всеукраїнського референдуму на підтвердження Акта проголошення незалежності України

21. Хто з Президентів України поставив підпис під документом, уривок із якого наведено?

- А Л. Кравчук
- Б Л. Кучма
- В В. Ющенко
- Г В. Янукович

22. У якому році одна з країн-підписантів порушила умови, зазначені в цитованому документі?

- А 1996 р.
- Б 1998 р.
- В 2003 р.
- Г 2014 р.

23. На карикатурі відображено запити сучасного українського суспільства щодо
- А розв'язання проблем забруднення навколишнього середовища.
 - Б подолання кризи фінансової та банківської систем.
 - В проведення масштабного очищення органів державної влади.
 - Г упровадження новітніх біотехнологій у виробництво.



У завданнях 24–26 до кожного з чотирьох рядків інформації, позначених цифрами, доберіть один правильний, на Вашу думку, варіант, позначений буквою. Поставте позначки в таблицях відповідей до завдань у бланку А на перетині відповідних рядків (цифри) і колонок (букви). Усі інші види Вашого запису в бланку А комп'ютерна програма реєструватиме як помилки!

Будьте особливо уважні під час заповнення бланку А!
Не погіршуйте власноручно свого результату неправильною формою запису відповідей

24. Установіть відповідність між подією та роком, коли вона відбулася.

1	проголошення курсу на індустріалізацію	А	1921 р.		А	Б	В	Г	Д
2	входження УСРР до складу СРСР	Б	1922 р.	1	<input type="checkbox"/>	<input type="checkbox"/>	<input type="checkbox"/>	<input type="checkbox"/>	<input type="checkbox"/>
3	утворення Української автокефальної православної церкви	В	1923 р.	2	<input type="checkbox"/>	<input type="checkbox"/>	<input type="checkbox"/>	<input type="checkbox"/>	<input type="checkbox"/>
4	початок політики «коренізації» в УСРР	Г	1925 р.	3	<input type="checkbox"/>	<input type="checkbox"/>	<input type="checkbox"/>	<input type="checkbox"/>	<input type="checkbox"/>
		Д	1928 р.	4	<input type="checkbox"/>	<input type="checkbox"/>	<input type="checkbox"/>	<input type="checkbox"/>	<input type="checkbox"/>

25. З'ясуйте, кому з діячів належать наведені факти біографії.

1	Г. Верьовка	А	актор, режисер, новатор українського театру, керівник мистецького об'єднання «Березіль»
2	Л. Курбас	Б	поет, перекладач, голова Співки письменників України, директор Інституту мистецтвознавства, фольклору та етнографії АН УРСР
3	П. Вірський	В	танцівник, хореограф, балетмейстер, організатор і художній керівник Ансамблю танцю УРСР
4	М. Рильський	Г	митець-монументаліст, графік, фундатор новаторської художньої школи в українському мистецтві 1920-х рр.
		Д	композитор, диригент, педагог, організатор і художній керівник Українського державного народного хору

	А	Б	В	Г	Д
1	<input type="checkbox"/>	<input type="checkbox"/>	<input type="checkbox"/>	<input type="checkbox"/>	<input type="checkbox"/>
2	<input type="checkbox"/>	<input type="checkbox"/>	<input type="checkbox"/>	<input type="checkbox"/>	<input type="checkbox"/>
3	<input type="checkbox"/>	<input type="checkbox"/>	<input type="checkbox"/>	<input type="checkbox"/>	<input type="checkbox"/>
4	<input type="checkbox"/>	<input type="checkbox"/>	<input type="checkbox"/>	<input type="checkbox"/>	<input type="checkbox"/>

26. Установіть відповідність між подією та її наслідком.

- | | | | |
|---|---|---|--|
| 1 | запровадження національної валюти – гривні | А | обрання Президентом України В. Ющенко |
| 2 | «Помаранчева революція» | Б | створення передумов до виходу держави з економічної кризи |
| 3 | проведення першого Всеукраїнського референдуму | В | виникнення парламентської опозиції |
| 4 | проведення перших альтернативних виборів до Верховної Ради УРСР | Г | припинення існування Союзу Радянських Соціалістичних Республік |
| | | Д | створення Автономної Республіки Крим |

	А	Б	В	Г	Д
1					
2					
3					
4					

У завданнях 27 і 28 розташуйте події в хронологічній послідовності. Поставте позначки в таблицях відповідей до завдань у бланку А на перетині відповідних рядків (цифри) і колонок (букви). Цифрі 1 має відповідати вибрана Вами перша подія, цифрі 2 – друга, цифрі 3 – третя, цифрі 4 – четверта. Усі інші види Вашого запису в бланку А комп'ютерна програма реєструватиме як помилки!

Будьте особливо уважні під час заповнення бланка А!
Не погіршуйте власноручно свого результату неправильною формою запису відповідей

27. Установіть послідовність суспільно-політичних подій, описаних в уривках з історичних джерел.

- А *«...У сій хвилі представники українського народу в Галичині всіх політичних напрямів, яких об'єднує один національний ідеал, зібралися в Головну Українську Раду...»*
- Б *«Цього дня Українська Національна Рада перейняла на себе владу в столичнім місті Львові й на цілій території Української Держави...»*
- В *«Київ залишений був напризволяще... більшовицькі війська, тоді ще більше схожі на банди, незабаром змусили кошмаром своєї “діяльності” забути кошмар і жах дев'ятиденного бомбардування...»*
- Г *«На цій історичній площі столичного міста Києва стоїмо... ми, український народ західноукраїнських земель.., будучи однією кров'ю... з усім народом Української Народної Республіки, хочемо й бажаємо відновити національну державну єдність нашого народу...»*

	А	Б	В	Г
1				
2				
3				
4				

28. Установіть послідовність виходу друком газет часів Другої світової війни, фрагменти перших шпальт яких зображено на фото.




	А	Б	В	Г
1				
2				
3				
4				

А



Б



В



Г

Завдання 29 і 30 мають по сім варіантів відповідей, з яких лише три правильні. Виберіть три цифри, що позначають правильні, на Вашу думку, відповіді, та запишіть їх у *бланку А* згідно з інструкцією. Порядок написання цифр значення не має. Для виправлення помилково вказаної відповіді запишіть новий варіант відповіді (три цифри) у спеціально відведеному місці *бланка А*. Не робіть інших записів у *бланку А*, тому що комп'ютерна програма реєструватиме їх як помилки!

Будьте особливо уважні під час заповнення *бланка А*!
Не погіршуйте власноручно свого результату неправильною формою запису відповідей

29. Хто з указаних діячів був причетний до створення Західно-української Народної Республіки (ЗУНР)?

- 1 М. Міхновський
- 2 А. Волошин
- 3 Х. Раковський
- 4 Д. Вітовський
- 5 Є. Петрушевич
- 6 В. Липківський
- 7 К. Левицький

30. Укажіть прояви політико-ідеологічної кризи радянського ладу в середині 1960-х – на початку 1980-х рр.

- 1 поява концепції «розвиненого соціалізму»
- 2 стрімка русифікація середньої та вищої освіти
- 3 проведення політики десталінізації
- 4 посилення репресій проти інакомислячих
- 5 формування багатопартійності
- 6 започаткування масового страйкового руху
- 7 придушення повстань політв'язнів ГУЛАГу

Ви завершили роботу над завданнями частини 1.
Перевірте правильність перенесення своїх відповідей у *бланк А*.

Пам'ятайте!

Результат виконання завдань частини 1 буде зараховано як результат державної підсумкової атестації.

Частина 2

Історія України від найдавніших часів до кінця ХІХ століття

Завдання 31–53 мають по чотири варіанти відповіді, з яких лише один правильний. Виберіть правильний, на Вашу думку, варіант відповіді, позначте його в *бланку А* згідно з інструкцією. Не робіть інших позначок у *бланку А*, тому що комп'ютерна програма реєструватиме їх як помилки!

Будьте особливо уважні під час заповнення *бланка А*!
Не погіршуйте власноручно свого результату неправильною формою запису відповідей

31. Витвір ювелірного мистецтва, зображений на фото, створено на замовлення

- А грецького аристократа.
- Б кіммерійського вождя.
- В слов'янського князя.
- Г скіфського царя.



32. На картосхемі жирною лінією позначено кордони Київської держави за часів князювання

- А Аскольда.
- Б Олега.
- В Володимира Великого.
- Г Ярослава Мудрого.



33. У якому році відбулася подія, описана в уривку з історичного джерела:

«Володимир Мономах сів у Києві. Зустріли ж його митрополит Никифор з єпископами й усіма киянами з честю великою.., сів він на столі отця свого й предків своїх, і всі люди раді були, а заколот улігся...»?

- А 1054 р.
- Б 1097 р.
- В 1113 р.
- Г 1199 р.

34. На картосхемі відображено основні напрямки завойовницьких походів

- А хозарів.
- Б половців.
- В печенігів.
- Г монголів.



35. Що було спільного в правлінні князів Галицько-Волинської держави Романа Мстиславовича та Данила Романовича?

- А приборкання боярської опозиції
- Б розбудова Галицької митрополії
- В боротьба з Тевтонським орденом
- Г створення антимонгольської коаліції

36. Загальна назва міського уряду, що набула поширення на початку XIV ст. в українських містах, де функціонувало міське самоврядування, – це

- А «цех».
- Б «віче».
- В «вотчина».
- Г «магістрат».

37. Яка з ікон, зображених на фото, належить пензлю О. Горошковича?



38. Яка подія відбулася в 1556 р.?

- А початок доби «героїчних морських походів» козаків
- Б заснування першої відомої Січі на острові Мала Хортиця
- В похід козаків під проводом П. Сагайдачного на Московське царство
- Г укладення козацького реєстру польським королем Стефаном Баторієм

Прочитайте фрагмент історичного документа та виконайте завдання 39–41.

«1. Усім уніатам і неуніатам надається право вільного відправлення свого богослужіння,.. ремонтувати свої церкви й будувати нові...

2. ...церква Св. Софії київська з підданими, що живуть навколо неї, повинна залишатися за неуніатами й митрополитом, що має посвяту від патріарха константинопольського; він, митрополит, за давніми правами й звичаями, повинен обиратися з-поміж руської шляхти духовними й світськими обивателями Корони [Польської] і Великого князівства Литовського релігії грецької, що не перебувають в унії і мають привілеї з боку короля...

3. Те ж саме треба розуміти й щодо Львівського, Луцького, Перемишльського й Мстиславського владик й архимандритів Печерського й Унівського...»

39. Документ, уривок із якого наведено, увійшов в історію під назвою

- А «Ординація Війська Запорозького, що перебуває на службі Речі Посполитої».
- Б Куруківська угода.
- В «Пункти для заспокоєння руського народу».
- Г Люблінська унія.

40. Укажіть портрет діяча, який унаслідок виконання умов цитованого документа, очолив православну церкву.



А



Б



В



Г

41. З якою метою ухвалено цитований документ?

- А розширити повноваження греко-католицької церкви
- Б зняти гостроту міжконфесійного протистояння в суспільстві
- В розділити на українських землях світську та духовну владу
- Г скасувати рішення Берестейського церковного собору



42. Про яку причину Національно-визвольної війни українського народу середини XVII ст. йдеться в уривку з історичного джерела:
«Тутешні селяни заслуговують на співчуття. Вони мусять працювати власноручно й зі своїми кіньми три дні на тиждень на користь свого пана, а також сплачувати йому певну кількість ...хліба, багато півнів, курей, гусей і курчат перед Великоднем, Трійцею та Різдом...»?
- А воєнно-стратегічну
 Б культурно-ідеологічну
 В національно-релігійну
 Г соціально-економічну
43. Укладення Віленського перемир'я спонукало гетьмана Б. Хмельницького до
- А здійснення Молдавських походів козацького війська.
 Б пошуку нових союзників у війні з Річчю Посполитою.
 В підписання «Березневих статей» з Московською державою.
 Г об'єднання Слобідської України й Гетьманщини в єдину державу.
44. Якою цифрою на картосхемі позначено території, що ввійшли до складу Російської імперії в результаті російсько-турецької війни 1787–1791 рр.?

- А 1
 Б 2
 В 3
 Г 4



45. Перехід від мануфактури з її ручною працею та ремісничою технікою до великого машинного фабрично-заводського виробництва, що зумовив формування нових соціальних верств – підприємців і найманих робітників, – це ознаки
- А промислового перевороту.
 Б концентрації виробництва.
 В технічної реконструкції.
 Г форсованої індустріалізації.
46. У доповідній записці царського жандарма *«У Києві та в Малоросії слов'янофільство перетворюється в українофільство... Причетні до справи... художник.., колишній вчитель... із захопленням говорили про колишню Малоросію...»* ідеться про учасників
- А «Руської трійці».
 Б Братства тарасівців.
 В «Південного товариства».
 Г Кирило-Мефодіївського братства.

47. У результаті скасування панщини на західноукраїнських землях селяни були змушені
- А виходити з общин.
 - Б користуватися сервітутами за плату.
 - В переселятися на хутори.
 - Г утворювати кооперативні товариства.
48. Буковина в складі Австрійської (Австро-Угорської) імперії стала тереном протистояння між українським національним рухом і
- А румунським.
 - Б угорським.
 - В російським.
 - Г польським.
49. Об'єднання українських наукових, літературних й освітніх сил, визначення поля їхньої діяльності в результаті поживавлення культурно-освітнього руху під час подій «Весни народів» мало бути здійснено
- А «Руською трійцею».
 - Б «Собором руських учених».
 - В Науковим товариством ім. Т. Шевченка.
 - Г «Південно-Західним відділом Російського географічного товариства».
50. Що стало причиною скасування царською владою в пореформений період тимчасовозобов'язального стану селян Правобережної України?
- А початок Кримської війни
 - Б розгортання «Київської козаччини»
 - В активізація діяльності підприємців-меценатів
 - Г вибух польського національно-визвольного повстання
51. Що об'єднує діячів, зображених на фото?



- А участь у громадівському русі
 - Б започаткування кооперативного руху
 - В створення першого осередку товариства «Просвіта»
 - Г організація першої української політичної партії
52. Українську соціал-демократичну партію створено у Львові
- А 1868 р.
 - Б 1873 р.
 - В 1890 р.
 - Г 1899 р.



53. Що було характерним для розвитку української культури в другій половині XIX – на початку XX ст.?

- А зародження українського аматорського театру
- Б відродження популярності полемічної літератури
- В українізація початкової освіти в Наддніпрянській Україні
- Г становлення українського музичного класичного мистецтва

У завданнях 54–56 до кожного з чотирьох рядків інформації, позначених цифрами, доберіть один правильний, на Вашу думку, варіант, позначений буквою. Поставте позначки в таблицях відповідей до завдань у бланку А на перетині відповідних рядків (цифри) і колонок (букви). Усі інші види Вашого запису в бланку А комп'ютерна програма реєструватиме як помилки!

Будьте особливо уважні під час заповнення бланка А!
Не погіршуйте власноручно свого результату неправильною формою запису відповідей

54. З'ясуйте, складовою якої експозиції історичного музею є пам'ятки, зображені на кожному з фото.



- А «Дивосвіт Трипілля»
- Б «Античні міста-держави Північного Причорномор'я»
- В «Кочовики раннього залізного віку»
- Г «Язичництво давніх слов'ян»
- Д «Духовний світ людей доби палеоліту»

	А	Б	В	Г	Д
1					
2					
3					
4					

55. Установіть відповідність між подією та її наслідком.

- | | | | |
|---|--|---|---|
| 1 | укладення Гадяцького договору | А | створення найманого кінного війська «компанійців» |
| 2 | Чигиринські походи турецько-татарської армії | Б | агресія Московського царства проти Гетьманщини |
| 3 | проведення Чорної ради поблизу Ніжина | В | здійснення гетьманом І. Самойловичем «Великого згону» |
| 4 | обрання гетьманом Д. Многогрішного | Г | повстання під проводом полковника С. Палія |
| | | Д | розпад Гетьманщини на дві частини – Правобережну та Лівобережну |

	А	Б	В	Г	Д
1					
2					
3					
4					

56. Установіть відповідність між діячем і сферою його діяльності.

- | | | | |
|---|-------------------|---|----------|
| 1 | І. Мечников | А | історія |
| 2 | С. Васильківський | Б | музика |
| 3 | Д. Яворницький | В | живопис |
| 4 | М. Кропивницький | Г | театр |
| | | Д | медицина |

	А	Б	В	Г	Д
1					
2					
3					
4					

У завданнях 57 і 58 розташуйте події в хронологічній послідовності. Поставте позначки в таблицях відповідей до завдань у *бланку А* на перетині відповідних рядків (цифри) і колонок (букви). Цифри 1 має відповідати вибрана Вами перша подія, цифри 2 – друга, цифри 3 – третя, цифри 4 – четверта. Усі інші види Вашого запису в *бланку А* комп'ютерна програма реєструватиме як помилки!

Будьте особливо уважні під час заповнення *бланку А*!

Не погіршуйте власноручно свого результату неправильною формою запису відповідей

57. Установіть послідовність подій періоду перебування українських земель у складі Великого князівства Литовського.

- | | |
|---|--|
| А | перемога литовсько-руського війська над монголами в битві на Синіх Водах |
| Б | утвердження литовської династії Гедиміновичів у Волинському князівстві |
| В | перемога литовського війська над московським у битві під Оршею |
| Г | остаточна ліквідація Київського удільного князівства |

	А	Б	В	Г
1				
2				
3				
4				

58. Установіть послідовність подій, описаних в уривках з літопису Г. Граб'янки.

- А** «...вдруге перебрав собі гетьманську булаву, зібрав козаків реєстрових та запорозьких і чимдуж поспішив під Хотин на підмогу Владиславу... став обіч королевича в осаді...»
- Б** «...Петро Конашевич-Сагайдачний... ходив з військом запорозьким по воді на Кафу, повоював її добре, силу бранців християнських з неволі звільнив і з добичею великою з Чорного моря повернувся...»
- В** «...козаки зібралися, настановили гетьманом Павлюка й вирушили на Кумейки супроти ляхів, але під Кумейками коронний гетьман Конєцпольський, до підступу вдавшись, здолав козаків...»
- Г** «...король Баторій, настановив козакам гетьмана, прислав корогву, бунчук та булаву, печатку гербову... віддав для пристанища місто Терехтемирів з монастирем, аби вони в ньому зимували, а за службу поклав їм по червінцеві та по кожуху...»

	А	Б	В	Г
1	<input type="checkbox"/>	<input type="checkbox"/>	<input type="checkbox"/>	<input type="checkbox"/>
2	<input type="checkbox"/>	<input type="checkbox"/>	<input type="checkbox"/>	<input type="checkbox"/>
3	<input type="checkbox"/>	<input type="checkbox"/>	<input type="checkbox"/>	<input type="checkbox"/>
4	<input type="checkbox"/>	<input type="checkbox"/>	<input type="checkbox"/>	<input type="checkbox"/>

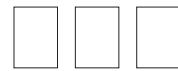
Завдання 59 і 60 мають по сім варіантів відповідей, з яких лише три правильні. Виберіть три цифри, що позначають правильні, на Вашу думку, відповіді, та запишіть їх у бланку А згідно з інструкцією. Порядок написання цифр значення не має. Для виправлення помилково вказаної відповіді запишіть новий варіант відповіді (три цифри) у спеціально відведеному місці бланка А. Не робіть інших записів у бланку А, тому що комп'ютерна програма реєструватиме їх як помилки!

Будьте особливо уважні під час заповнення бланка А!
Не погіршуйте власноручно свого результату неправильною формою запису відповідей

59. Поміж яких релігій (за літописною легендою) вибирав великий князь київський Володимир Святославич, здійснюючи в 988 р. релігійну реформу?

- 1 християнства
- 2 індуїзму
- 3 буддизму
- 4 ісламу
- 5 даосизму
- 6 іудаїзму
- 7 конфуціанства

60. Які уривки з праці Н. Яковенко «Нарис історії середньовічної та ранньомодерної України» стосуються К. Розумовського?



- 1 *«27 червня 1672 р. гетьманом став генеральний писар, один з донощиків на Многогрішного..., син священика з Правобережної України...»*
- 2 *«...був заочно “обраний” на гетьманство, а імператриця з цієї нагоди присвоїла йому чин генерал-фельдмаршала й вручила в придворній церкві в Петербурзі гетьманські клейноди...»*
- 3 *«...вирішує перенести свою резиденцію до старої, мазепинської, столиці – Батурина...»*
- 4 *«...залишивши близько 3 тис. людей для оборони Батурина, виїхав із рештою козаків назустріч Карлові XII...»*
- 5 *«Реформування судочинства... було спрямоване на реанімацію того укладу, у якому жилося до козацької революції...»*
- 6 *«...було проведене так зване Генеральне слідство про маєтності, тобто ревізія поземельного фонду Гетьманської України...»*
- 7 *«...життя гетьмана-емігранта підпорядковувалося єдиній меті – переконати володарів європейських держав у потребі коаліції проти Росії...»*

Ви завершили роботу над завданнями частини 2.
Перевірте правильність перенесення своїх відповідей у бланк А.
Якщо час, відведений на виконання завдань частин 1 і 2, сплив,
здайте бланк А інструктору.

Кінець зошита